



Sčítanie a odčítanie do 100


Matematika pre 3. ročník



Autor: Mgr. Zuzana Kalusová



Zapíš príklady na sčítanie a odčítanie



--	--	--	--	--

--	--	--	--	--

--	--	--	--	--

--	--	--	--	--

--	--	--	--	--


--	--	--	--	--

--	--	--	--	--

--	--	--	--	--




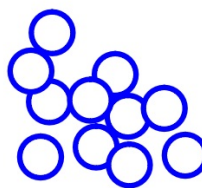
Zapiš čísly



Znázorni

63

11







Pomôž Ivanke roztriediť čísla



Kontrola



	21	26	62	
45		78	53	34
54	65	37	74	19



V OBCHODE



12 centov



33 centov



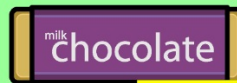
6 centov




7 centov



9 centov



15 centov



18 centov



11 centov



4 centy

Čo môžeš kúpiť, ak máš 50 centov?

_____ Zostane mi _____ centov.

_____ Zostane mi _____ centov.

_____ Zostane mi _____ centov.




_____ Zostane mi _____ centov.

Na sídlisko priviezli 15 zelených, 8 žltých a 9 modrých kontajnerov.
Koľko kontajnerov priviezli spolu?

Spolu priviezli kontajnerov.



Kontrola





65

	+		=	
	+		=	
	+		=	
	-		=	
	-		=	
	-		=	
	-		=	

2 3



47

	-		=	
	-		=	
	-		=	
	+		=	
	+		=	
	+		=	
	+		=	



Ďakujem za pozornosť

